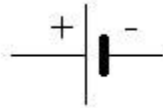


Devoir 1 de sciences physiques et chimiques

Exercice 1 : Reliez le symbole des dipôles :

Interrupteur fermé:



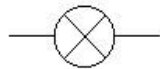
Lampe:



Moteur électrique:



Pile, d'un générateur:



Interrupteur ouvert:

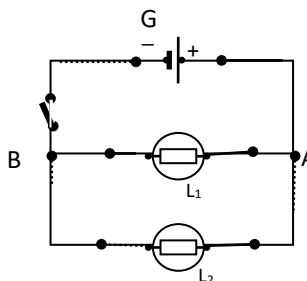
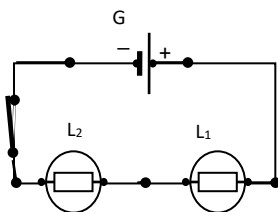


Exercice 2 : Donner 1 exemple de conducteur et d'isolant :

Isolant :

Conducteur :

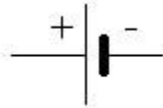
Exercice 3 : Ecrivez en bas de chaque schémas série ou dérivation



Devoir 1 de sciences physiques et chimiques

Exercice 1 : Reliez le symbole des dipôles :

Interrupteur fermé:



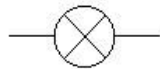
Lampe:



Moteur électrique:



Pile, d'un générateur:



Interrupteur ouvert:



Exercice 2 : Donner 1 exemple de conducteur et isolant :

Isolant :

Conducteur :

Exercice 3 : Ecrivez en bas de chaque schémas série ou dérivation

